



آمادگی و دبستان غیر دولتی کوثر



به نام خدا

نام و نام خانوادگی:

تاریخ: ۹۸/۹/۶ آدینه ی : ۵ پایه : چهارم

۱- نازنینم، باتوجه به شکل، عبارت الگوی عددی شکل را بنویس.



عبارت الگو:

برای رسم دهمین شکل الگو چند شکل باید رسم کنیم؟

۲- کسر های (دوپنجم) و (سه پنجم) را با رسم شکل نشان بده. سپس باهم مقایسه کن

۹- در چه شرایطی می توان به جای وضو تیمم کرد؟

۱۰- نام وسایل مورد استفاده ی یک جغرافی دان را بنویس.

*مهم ترین وسیله برای مطالعه ی جغرافیا چیست؟

۱۱- قطب نما چیست؟

خودسنجی:  

ارزیابی آموزگار:

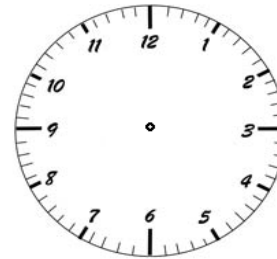
ارزیابی اولیا:

۳- باتوجه به الگو به جای علامت ؟ چه اعدادی باید قرار گیرد؟

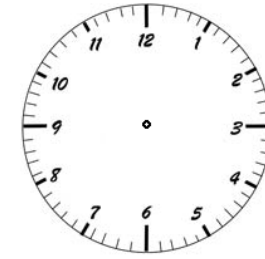
۱۹۵۷	۱۹۶۸	۱۹۷۹	۱۹۹۰	۲۰۰۱	۲۰۱۲	؟	؟
------	------	------	------	------	------	---	---

*روش کار خود را توضیح دهید.


۴- ساعت ها را کامل کرده و عدد مخلوط مربوطه را بنویسید.



۳۰ دقیقه بعد از ۳



۱۰ دقیقه قبل از ۱۱



۲۰ دقیقه بعد از ۴

۵- مقایسه کن.

۱۰۵۴۹ ۷۳۸۵

۶۵۲۱۴ ۶۵۳۰۷

۲۸۴۶۲ ۲۸۴۹

۶- مهم ترین ویژگی طوطی داستان رهایی از قفس چیست؟

۷- با حروف درهم ریخته کلمه بساز.

(ص، م، م، ت، ی) * (غ، م، ا، ی، پ)

۸- با کلمات زیر جمله بساز.

کارنامه:

شناسنامه:

تشویق نامه:

۹- نام وسیله ای را بنویسید که در آن انرژی الکتریکی به انرژی گرمایی تبدیل می شود؟

۱۰- سارا تب دارد برای اندازه گیری دمای بدن او مادرش از

استفاده می کند.

از دماسنج دیواری برای اندازه گیری استفاده می کنیم.

واحد اندازه گیری دما است.